

**BỘ ĐỀ THI CUỐI HỌC KỲ 1 MÔN TOÁN LỚP 1**  
**SÁCH CÁNH DIỀU**  
**ĐỀ 1**


**I. PHẦN TRẮC NGHIỆM:**

**Câu 1. Số ? (1đ) M1**










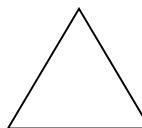

**Câu 2. Nối ô chữ với hình thích hợp ( 1đ ) M1**



Hình chữ nhật




Hình vuông



Hình tròn



**Câu 3. Viết số còn thiếu vào ô trống:( 1đ) M1**



**Câu 4. Khoanh vào chữ cái đặt trước kết quả đúng: (1 đ) M2**

Sắp xếp các số 3, 7, 2, 10 theo thứ tự từ bé đến lớn:

A. 10, 7, 3, 2.

B. 7, 10, 2, 3.

C. 2, 3, 7, 10.

**Câu 5: Khoanh vào chữ cái đặt trước kết quả đúng: (1đ) M2**

$8 - 3 + 2 = ?$

A. 3

B. 5

C. 7

**Câu 6. Đúng ghi Đ, sai ghi S vào ô trống:(1đ) M1**



$10 < 8$

$6 + 3 = 9$

$8 > 7$

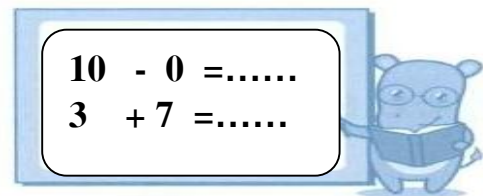
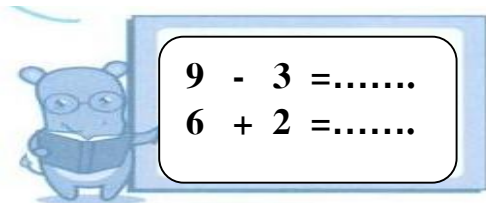
$8 - 0 < 7$

**Câu 7.** Nối tên các đồ vật sau phù hợp với khối hộp chữ nhật, khối lập phương:  
(1đ) M3



## II. PHẦN TỰ LUẬN

**Câu 8.** Tính: (1đ) M1




**Câu 9.** Điền số thích hợp vào chỗ chấm : (1đ) M2

$\dots + 5 = 7$


$10 - \dots = 6$

$3 + \dots = 8$

$8 - \dots = 4$



**Câu 10.** Xem tranh rồi viết phép tính thích hợp:(1đ) M3



a. 

--	--	--	--	--



b. 

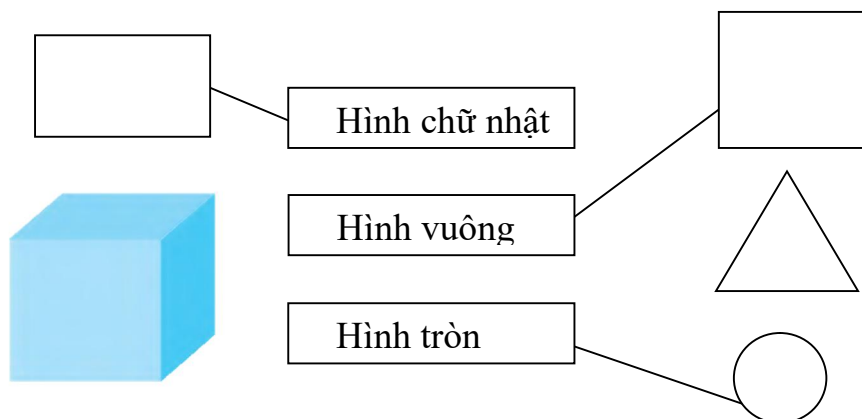
--	--	--	--	--

# ĐÁP ÁN ĐỀ 1

## I. PHẦN TRẮC NGHIỆM:

Câu 1. Số: 3, 9, 6, 10 (mỗi số 0,25đ)

Câu 2. Nối với hình thích hợp (0,5đ/ 1-2 hình ) M1



Câu 3. Viết số còn thiếu vào ô trống: ( 0,5đ/1 câu) M1

0, 2, 3, 4, 5, 6, 7, 8, 9, 10.

10, 9, 8, 7, 6, 5, 4, 3, 2, 1, 0.

Câu 4. C ( 1đ)

Câu 5. C. 7 ( 1đ)

Câu 6. (0,25đ/1 câu)

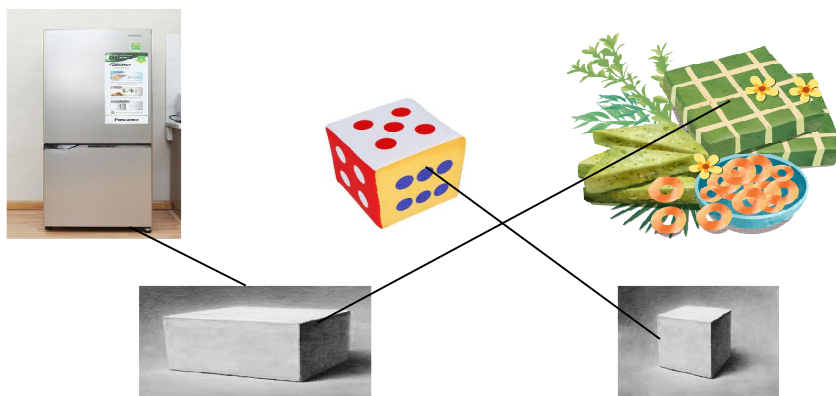
$$10 < 8 \quad \boxed{\text{S}}$$

$$6 + 3 = 9 \quad \boxed{\text{Đ}}$$

$$8 > 7 \quad \boxed{\text{Đ}}$$

$$8 - 0 < 7 \quad \boxed{\text{S}}$$

Câu 7. ( 1-2 hình/ 0,5đ)



## II. PHẦN TỰ LUẬN

Câu 8. ( 1 đ)  $9 - 3 = 6$

$$10 - 5 - 3 = 2$$

$$6 + 2 = 8$$

$$3 + 2 + 1 = 6 \text{ ( 1 bài/ 0,25 đ)}$$

Câu 9. (1đ)

$$2 + 5 = 7 \text{ (0,25đ)}$$

$$3 + 5 = 8$$

$$10 - 4 = 6$$

$$8 - 4 = 4$$

Câu 10. (0,5đ/1 phép tính)

9	-	7	=	2
---	---	---	---	---

5	+	4	=	9
---	---	---	---	---

ĐỀ 2

Khoanh tròn vào chữ cái ( A, B,C, D ) đặt trước câu trả lời đúng.


Câu 1 :  $7 + 1 = \dots\dots\dots$  (0,5đ)

- A. 7                  B. 8                  C. 9                  D. 10

Câu 2 :  $8 - \square = 5$  (0,5đ)

- A. 3                  B. 4                  C. 5                  D. 6

Câu 3: Điền số thích hợp vào  $\square$  (1đ)



Câu 4 : Nhìn vào sơ đồ tách - gộp, viết phép tính thích hợp (2đ)



Câu 5 : Tính (1đ)

- a)  $7 - 3 = \dots\dots\dots$     b)  $4 + 5 = \dots\dots\dots$

Câu 6: Tính (1đ)

- a)  $5 + 2 - 1 = \dots\dots\dots$     b)  $8 - 7 + 1 = \dots\dots\dots$

Câu 7:  $><=$  (1đ)

$6 + 2$     $\square + 6$                    $8 - 2$     $\square - 0$

Câu 8: (1 đ)

Có 7 quả trứng gà    Viết phép cộng  
và 2 quả trứng vịt    .....  
Có tất cả: ..... quả trứng

Câu 9: Viết các số 9, 5, 0, 10 (1đ)

a) Theo thứ tự từ bé đến lớn:.....

---

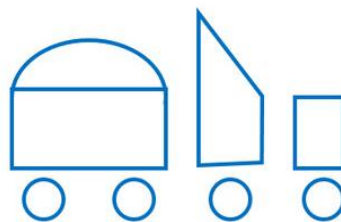
b) Theo thứ tự từ lớn đến bé:.....

Câu 10: Điền số vào ô

(1đ)

a) Có  chữ nhật

b) Có  hình tròn



---

---

## ĐÁP ÁN ĐỀ 2

**Câu 1 :** B. 8 (0,5đ)

**Câu 2 :** A. 3 (0,5đ)

**Câu 3:** 10 và 7 (1đ)

**Câu 4 :** (2đ)  $8 - 3 = 5$

$$8 - 5 = 3$$

$$3 + 5 = 8$$

$$5 + 3 = 8$$

**Câu 5 :** Tính (1đ)

a)  $7 - 3 = 4$

b)  $4 + 5 = 9$

**Câu 6:** Tính (1đ)

a)  $5 + 2 - 1 = 6$

b)  $8 - 7 + 1 = 2$

**Câu 7:**  $><=$  (1đ)

$$6 + 2 \boxed{=} 2 + 6$$

$$8 - 2 \boxed{<} 8 - 0$$

**Câu 8:** (1 đ)

Có 7 quả trứng gà

và 2 quả trứng vịt

Có tất cả: 9 quả trứng

Viết phép cộng

$$7 + 2 = 9$$

**Câu 9:** Viết các số 9,5,0,10 (1đ)

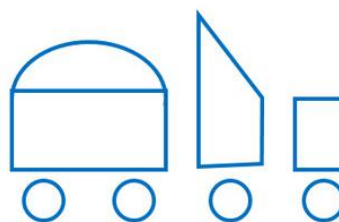
a) Theo thứ tự từ bé đến lớn: 0,5,9,10

b) Theo thứ tự từ lớn đến bé: 10,9,5,0

**Câu 10:** Điền số vào ô  (1đ)

a) Có  chữ nhật

b) Có  hình tròn



**ĐỀ 3**

**Câu 1: Khoanh vào chữ cái trước câu trả lời đúng: (Mức 1: 1 điểm)**  
**Hình bên có bao nhiêu con bọ cánh cam?**

- A. 9 con
- B. 10 con
- C. 8 con
- D. 7 con



**Câu 2: Viết số thích hợp vào ô trống (Mức 1: 1 điểm)**

a

1	3	.....	7	.....
---	---	-------	---	-------


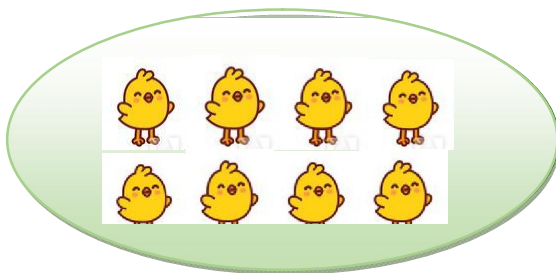
b

2	4	.....	.....	10
---	---	-------	-------	----

**Câu 3: Khoanh vào chữ cái trước câu trả lời đúng: (Mức 1: 1 điểm)**  
**Hình vẽ nào dưới đây thể hiện phép tính: “Một cộng bốn”?**



**Câu 4: Nối hình với số thích hợp. (Mức 1: 1 điểm)**



7

8


9

6



**Câu 5: Khoanh vào chữ cái trước câu trả lời đúng: (Mức 1: 1 điểm)**  
**Hình bên có bao nhiêu hình tròn?**

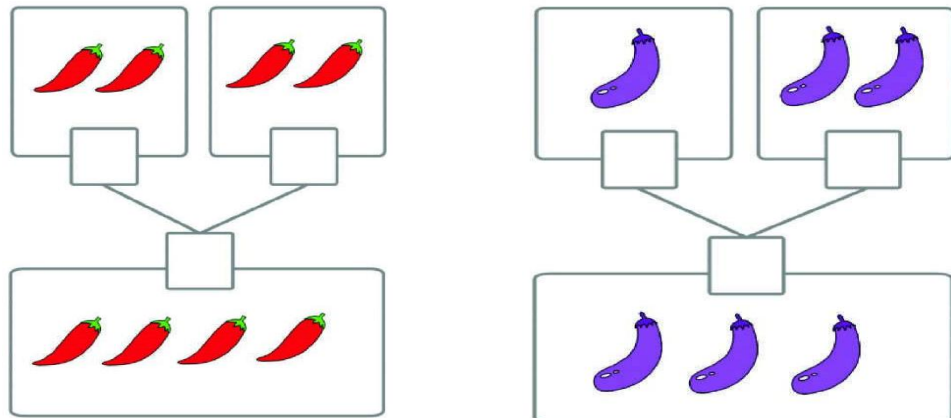
- A. 3 hình tròn.
- B. 4 hình tròn.
- C. 5 hình tròn.
- D. 6 hình tròn



**Câu 6: Viết số và điền dấu (> < =) thích hợp vào ô trống: (Mức 2: 1 điểm)**

 <input style="width: 40px; height: 30px;" type="text"/> ..... <input style="width: 40px; height: 30px;" type="text"/>	 <input style="width: 40px; height: 30px;" type="text"/> ..... <input style="width: 40px; height: 30px;" type="text"/> + <input style="width: 40px; height: 30px;" type="text"/>
---	---

**Câu 7: Viết số thích hợp vào ô trống: (Mức 2: 1 điểm)**



**Câu 8: Tính (Mức 2: 1 điểm)**

$\begin{array}{r} 9 \\ - 5 \\ \hline \end{array}$	$\begin{array}{r} 8 \\ + 1 \\ \hline \end{array}$	$\begin{array}{r} 7 \\ - 0 \\ \hline \end{array}$	$\begin{array}{r} 6 \\ - 6 \\ \hline \end{array}$
.....	....	.....	.....

**Câu 9: Viết phép tính thích hợp với hình vẽ: (Mức 3: 1 điểm)**
















--	--	--	--	--

**Câu 10: Tìm 5 số khác nhau mà khi cộng lại có kết quả bằng 10. (Mức 3: 1 điểm)**

.....

**ĐÁP ÁN ĐỀ 3**

<p><b>Câu 1: 1 điểm</b></p>	<p><b>B. 10 con</b></p>
<p><b>Câu 2: 1 điểm</b></p>	<p>a. 5, 9 b. 6, 8 <b>Viết đúng mỗi số được 0,25 điểm</b></p>
<p><b>Câu 3: 1 điểm</b></p>	<p><b>B</b></p>
<p><b>Câu 4: 1 điểm</b></p>	<div style="display: flex; align-items: center; justify-content: space-around;">  <div style="display: flex; flex-direction: column; align-items: center;"> <div style="border: 1px solid black; border-radius: 50%; width: 40px; height: 40px; display: flex; align-items: center; justify-content: center; margin-bottom: 10px;">7</div> <div style="border: 1px solid black; border-radius: 50%; width: 40px; height: 40px; display: flex; align-items: center; justify-content: center; margin-bottom: 10px;">8</div> <div style="border: 1px solid black; border-radius: 50%; width: 40px; height: 40px; display: flex; align-items: center; justify-content: center; margin-bottom: 10px;">9</div> <div style="border: 1px solid black; border-radius: 50%; width: 40px; height: 40px; display: flex; align-items: center; justify-content: center;">6</div> </div> </div> <p><b>Nối đúng mỗi hình được 0,5 điểm</b></p>
<p><b>Câu 5: 1 điểm</b></p>	<p><b>C. 5 hình tròn.</b></p>
<p><b>Câu 6: 1 điểm</b></p>	
<div style="display: flex; justify-content: space-around; align-items: center;">   </div> <div style="display: flex; justify-content: space-around; align-items: center; margin-top: 20px;"> <div style="border: 1px solid black; padding: 5px; width: 30px; text-align: center;">2</div> <span style="font-size: 2em;">&lt;</span> <div style="border: 1px solid black; padding: 5px; width: 30px; text-align: center;">3</div> </div>	<div style="display: flex; justify-content: space-around; align-items: center;">   </div> <div style="display: flex; justify-content: space-around; align-items: center; margin-top: 20px;"> <div style="border: 1px solid black; padding: 5px; width: 30px; text-align: center;">6</div> <span style="font-size: 2em;">&lt;</span> <div style="display: flex; align-items: center;"> <div style="border: 1px solid black; padding: 5px; width: 30px; text-align: center;">5</div> <span style="font-size: 2em;">+</span> <div style="border: 1px solid black; padding: 5px; width: 30px; text-align: center;">2</div> </div> </div>
<p><b>Viết đúng 1 phép tính được 0,5 điểm</b> <b>Viết đúng 2 phép tính được 1 điểm</b></p>	
<p><b>Câu 7: 1 điểm</b></p>	<div style="display: flex; justify-content: space-around;"> <div style="text-align: center;">  <div style="border: 1px solid black; padding: 5px; width: 30px; text-align: center; margin: 5px auto;">2</div>  <div style="border: 1px solid black; padding: 5px; width: 30px; text-align: center; margin: 5px auto;">2</div> <div style="border: 1px solid black; padding: 5px; width: 60px; text-align: center; margin: 5px auto;">4</div>  </div> <div style="text-align: center;">  <div style="border: 1px solid black; padding: 5px; width: 30px; text-align: center; margin: 5px auto;">1</div>  <div style="border: 1px solid black; padding: 5px; width: 30px; text-align: center; margin: 5px auto;">2</div> <div style="border: 1px solid black; padding: 5px; width: 60px; text-align: center; margin: 5px auto;">3</div>  </div> </div> <p><b>Viết đúng số mỗi hình được 0,5 điểm</b></p>

<b>Câu 8: 1 điểm</b>	$\begin{array}{r} 9 \\ -5 \\ \hline \dots 4 \end{array}$ $\begin{array}{r} 8 \\ +1 \\ \hline \dots 9 \end{array}$ $\begin{array}{r} 7 \\ -0 \\ \hline \dots 7 \end{array}$ $\begin{array}{r} 6 \\ -6 \\ \hline \dots 0 \end{array}$ <p> <b>Làm đúng 1 phép tính được 0,25 điểm</b>  <b>Làm đúng 2 phép tính được 0,5 điểm</b>  <b>Làm đúng 3 phép tính được 0,75 điểm</b>  <b>Làm đúng 4 phép tính được 0,1 điểm</b> </p>
<b>Câu 9: 1 điểm</b>	<b><math>10 - 3 = 7</math></b>
<b>Câu 10: 1 điểm</b>	<b>Đáp án mở:</b> <b><math>0 + 1 + 2 + 3 + 4 = 10</math></b> <b><math>1 + 2 + 3 + 0 + 4 = 10</math></b> <b><math>3 + 4 + 2 + 0 + 1 = 10</math></b> <b>...</b> <b>Viết đúng phép tính được 1 điểm</b>

**ĐỀ 4**



**Câu 1: Khoanh vào chữ cái đặt trước câu trả lời đúng: (Mức 1: 1 điểm)**

**Hình bên có bao nhiêu chú gà con?**





- A. 6
- B. 7
- C. 8
- D. 9



**Câu 2: Viết số thích hợp vào chỗ chấm: (Mức 1: 1 điểm)**

 <p>..... gồm 3 và 2</p>	 <p>9 gồm ..... và .....</p>
---	--

**Câu 3: Nối các hình ở cột A sao cho phù hợp với tên ở cột B: (Mức 1: 1 điểm)**

A





B
Hình tam giác
Hình tròn
Hình vuông
Hình chữ nhật

**Câu 4: Em hãy giúp ông già Noel lấy đúng hộp quà theo số thứ tự từ bé đến lớn?**

(Mức 1: 1 điểm)



**Câu 5: Khoanh vào chữ cái đặt trước câu trả lời đúng: (Mức 1: 1 điểm)**


Phép tính:  $6 + \dots = 10$

Số thích hợp điền vào chỗ chấm là:


- A.                      B.                      C.                      D.

**Câu 6: Điền dấu (> < =) thích hợp vào chỗ chấm: (Mức 2: 1 điểm)**

6 ... 9  
10 - 5 ... 5



4+2 ... 2+4  
7 ... 3



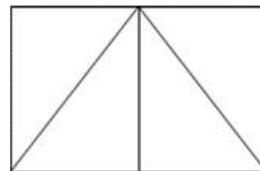
C

7	10	9	8
+	-	+	-
<u>   </u>	<u>   </u>	<u>   </u>	<u>   </u>
3	7	0	8

**Câu 8: Điền số thích hợp vào chỗ chấm: (Mức 2: 1 điểm)**

Hình bên có:

- a. .... hình tam giác  
b. .... hình chữ nhật



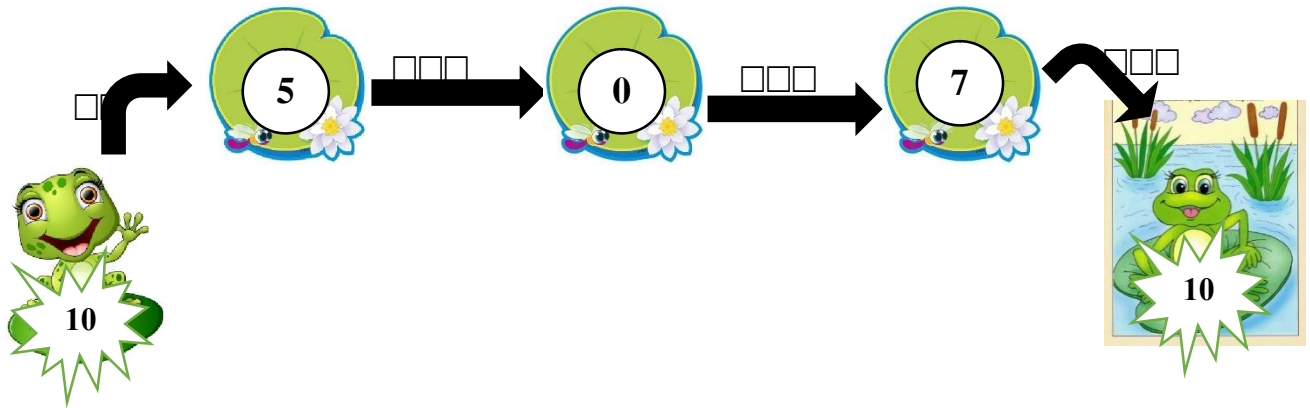
**Câu 9: Quan sát tranh và viết phép tính thích hợp vào ô trống: (Mức 3: 1 điểm)**







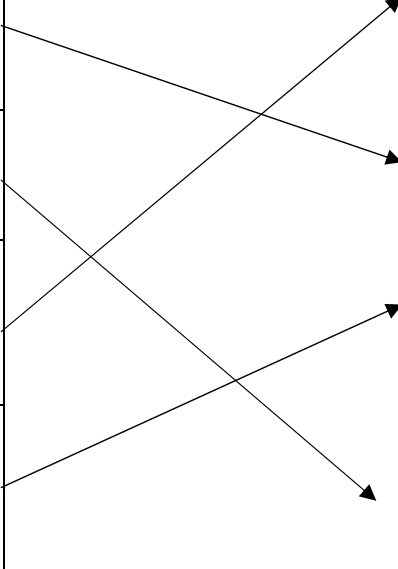



--	--	--	--	--

**Câu 10: Viết phép tính thích hợp: (Mức 3: 1 điểm)**

Em hãy giúp bạn Ếch về nhà với mẹ bằng cách điền các phép tính thích hợp vào chỗ chấm:



**ĐÁP ÁN ĐỀ 4**

<b>Câu 1:</b> 1 điểm	C. 8		
<b>Câu 2:</b> 1 điểm	5 gồm 3 và 2 9 gồm 5 và 4 Điền đúng mỗi hình được 0,5 điểm.		
<b>Câu 3:</b> 1 điểm	<b>A</b>		<b>B</b>
	   		Hình tam giác Hình tròn Hình vuông Hình chữ nhật
	Nói được 1 hình đúng được 0,25 điểm Nói được 2 hình đúng được 0,5 điểm Nói được 3 hình đúng được 0,75 điểm Nói được 4 hình đúng được 1 điểm		
<b>Câu 4:</b> 1 điểm	<div style="text-align: center;">   </div> <p style="text-align: center;">→</p> <div style="text-align: center;">  </div> Điền đúng các số theo thứ tự từ bé đến lớn được 1 điểm Điền đúng 2 số theo thứ tự từ bé đến lớn được 0,5 điểm Điền đúng 3 số theo thứ tự từ bé đến lớn được 0,75 điểm		
<b>Câu 5:</b> 1 điểm	A. 4		
<b>Câu 6:</b> 1 điểm	$6 < 9$ $4 + 2 = 2 + 4$	$10 - 5 = 5$ $7 > 3$	
	Điền đúng 1 phép tính được 0,25 điểm Điền đúng 2 phép tính được 0,5 điểm Điền đúng 3 phép tính được 0,75 điểm Điền đúng 4 phép tính được 1 điểm		



**Câu 7:**  
**1 điểm**

		7			10			9				8			
		+			-			+				-			
		<u>3</u>			<u>7</u>			<u>0</u>				<u>8</u>			
		10			3			9				0			

Làm đúng 1 phép tính được 0,25 điểm  
 Làm đúng 2 phép tính được 0,5 điểm  
 Làm đúng 3 phép tính được 0,75 điểm  
 Làm đúng 4 phép tính được 0,1 điểm

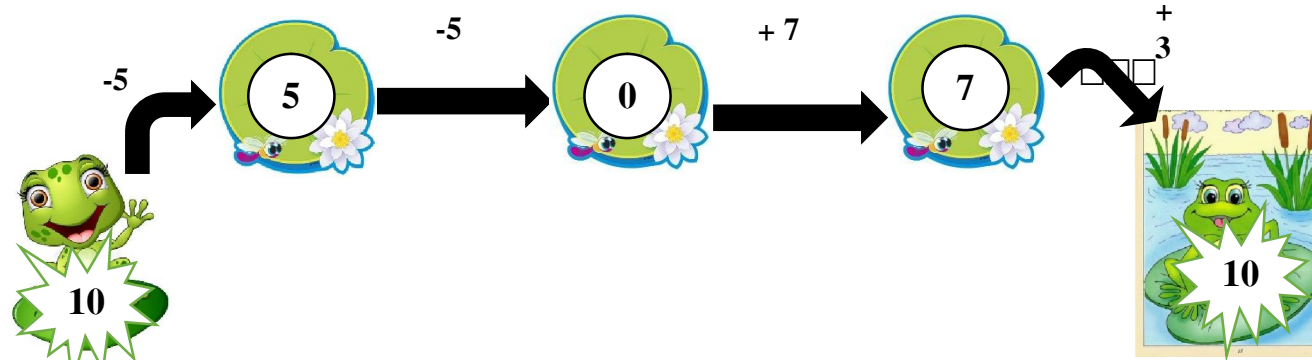
**Câu 8:**  
**1 điểm**

5 hình tam giác  
 3 hình chữ nhật  
 Điền đúng 1 chỗ trống được 0,5 điểm  
 Điền đúng 2 chỗ trống được 1 điểm

**Câu 9:**  
**1 điểm**

9	-	1	=	8
---	---	---	---	---

**Câu 10:**  
**1 điểm**



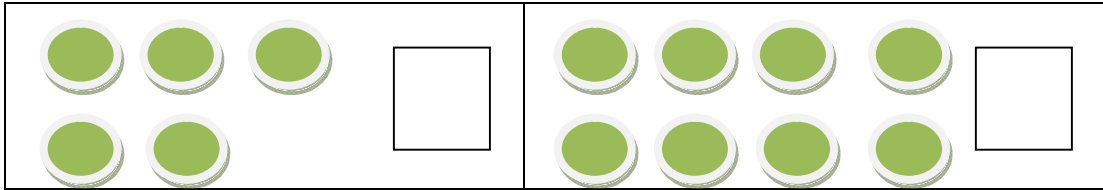
Điền đúng 1 phép tính được 0,25 điểm  
 Điền đúng 2 phép tính được 0,5 điểm  
 Điền đúng 3 phép tính được 0,75 điểm  
 Điền đúng 4 phép tính được 1 điểm

**ĐỀ 5**

**I. TRẮC NGHIỆM: ( 3điểm)**

*Khoanh vào trước câu trả lời đúng cho các câu 2, 3, 4,5.*

**Câu 1. (0,5 điểm) Số ?**



**Câu 2: (0,5 điểm) Đồ vật có dạng khối hộp chữ nhật là:**



**A.**

**B.**

**C.**

**Câu 3: ( 0,5 điểm) Các số 8, 0, 4,1 được xếp từ lớn đến bé là :**

**A . 8, 4, 1, 0**

**B . 0, 8, 4, 1**

**C . 8, 4, 0, 1**

**D . 8, 0, 1, 4**

**Câu 4: ( 1 điểm) Đúng điền Đ, sai điền S:**

$8 > 9 - 2$

$10 + 0 = 10 - 10$

$6 + 1 = 8$

$7 < 7 + 3$

**Câu 5: ( 0,5 điểm) Số lớn nhất trong các số: 10, 2, 4, 1 là:**

**A. 4**

**B. 2**

**C. 10**

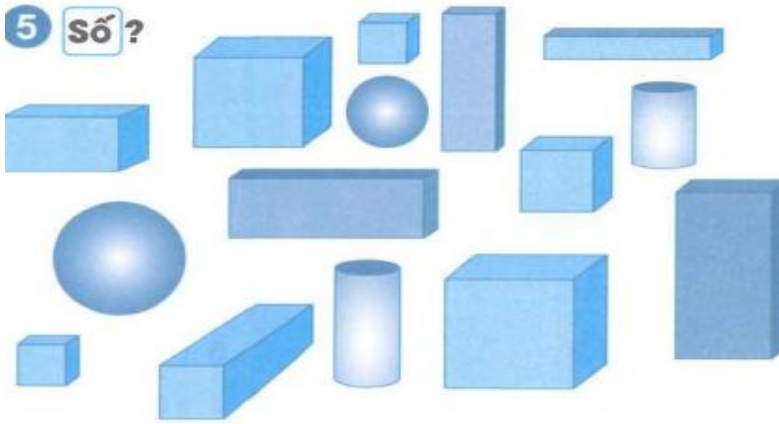
**D. 1**

**II. TỰ LUẬN: 7 điểm**

**Câu 6: ( 1 điểm) Có bao nhiêu khối hộp chữ nhật và khối lập phương?**



5 Số ?



- Có ..... khối lập phương

- Có ..... khối hộp chữ nhật

Câu 7: (2 điểm) Tính nhẩm

$3 + 2 = \dots$

$7 - 3 = \dots$

$10 - 6 = \dots$

$4 + 5 = \dots$

$8 - 6 = \dots$

$7 - 4 = \dots$

$6 + 4 = \dots$

$9 - 5 = \dots$

Câu 8: (2 điểm) Tính

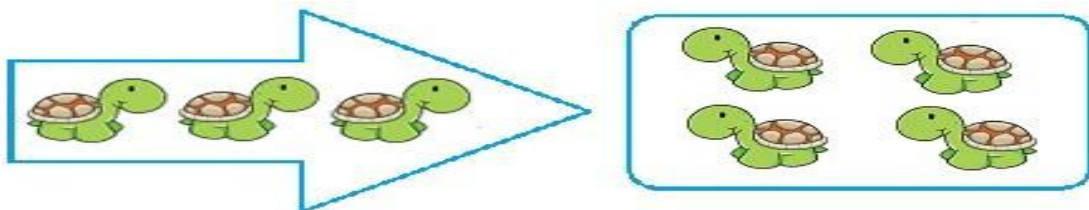
a,  $3 + 5 = \dots$

b,  $10 - 4 = \dots$

c,  $2 + 3 + 4 = \dots$

d,  $8 - 5 + 2 = \dots$

Câu 9: Nhìn tranh viết phép tính thích hợp



Câu 10: (1 điểm) Cho các số 1; 9; 10 và các dấu phép tính +, -, =, hãy lập các phép tính đúng từ các số trên ?

.....  
.....

---

---

## ĐÁP ÁN ĐỀ 5

### I. Phần trắc nghiệm: (3 điểm)

Câu 1	Câu 2	Câu 3	Câu 4	Câu 5
5-8	A	A	Đ/S/S/Đ	C
0,5 điểm	0,5 điểm	0,5 điểm	1 điểm	0,5 điểm

### II. Phần tự luận: (7 điểm)

**Câu 6: ( 1 điểm) Làm đúng mỗi phần được 0,5 điểm**

- Có 5 khối lập phương

- Có 6 khối hộp chữ nhật

**Câu 7: (2 điểm) Làm đúng mỗi phép tính được 0,25 điểm**

$$3 + 2 = 5$$

$$7 - 3 = 4$$

$$10 - 6 = 4$$

$$4 + 5 = 9$$

$$8 - 6 = 2$$

$$7 - 4 = 3$$

$$6 + 4 = 10$$

$$9 - 5 = 4$$

**Câu 8: (2 điểm) Làm đúng mỗi phép tính được 0,5 điểm**

$$2 + 5 - 0 = 7$$

$$5 + 5 - 3 = 7$$

$$9 - 3 + 2 = 8$$

$$10 - 7 - 2 = 1$$

**Câu 9: (1 điểm): Mỗi phép tính đúng được 0,5 điểm**

4	+	3	=	7
---	---	---	---	---

10	-	5	=	5
----	---	---	---	---

**Câu 10: (1 điểm)**

$$1 + 9 = 10$$

$$9 + 1 = 10$$

$$10 - 1 = 9$$

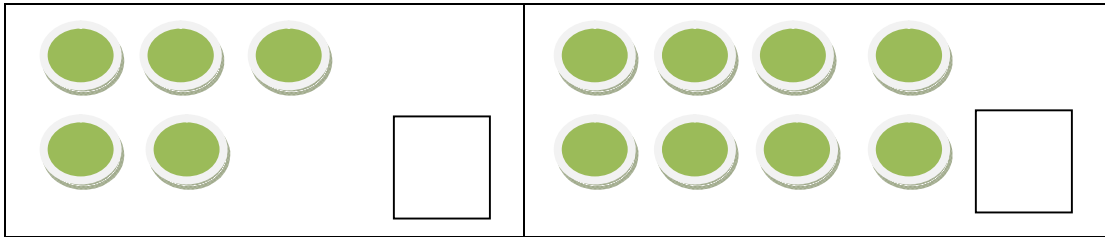
$$10 - 9 = 1.$$

*\*Lưu ý: Cả bài chữ xấu, bản trừ 01 điểm*

**ĐỀ 6**

**I. PHẦN TRẮC NGHIỆM: (6 điểm)**

**Câu 1: Số ? ( 1 điểm ) (M1)**



**Câu 2: Viết số còn thiếu vào ô trống : ( 1 điểm ) (M1)**

4			7		
---	--	--	---	--	--

**Câu 3: Khoanh vào chữ cái đặt trước kết quả đúng: ( 1,5 điểm ) (M1)**

a.  $2 + 6 =$

A. 6

B. 4

C. 8

b.  $4 \dots 8$

A.  $>$

B.  $<$

C.  $=$

**Câu 4: Đúng ghi Đ, sai ghi S vào ô trống. (1 điểm) (M2)**

$4 + 2 + 3 = 9$

$3 + 6 - 3 = 6$

$9 - 2 - 3 = 4$

$8 - 5 + 0 = 3$

**Câu 5: Hình dưới là khối? ?( 1 điểm ) (M2)**



A. Khối hộp chữ nhật

B. Khối lập phương

**Câu 6: Khoanh vào chữ cái đặt trước kết quả đúng: (0.5 điểm) (M2)**

$4 + 5 - 2 = ?$

A. 7

B. 5

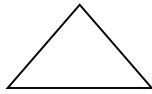
C. 6

**II/ PHẦN TỰ LUẬN: (4 điểm)**

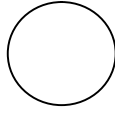
**Câu 7: Nối với hình thích hợp ( 1 điểm ) (M1)**



Hình tròn






Hình vuông



Hình tam giác

**Câu 8. Nói tên các đồ vật sau phù hợp với khối hộp chữ nhật, khối lập phương. (1 điểm) (M3)**



**Câu 9. Số ( 1 điểm ) ( M1)**




3	+	1	=	
---	---	---	---	--



5	-	2	=	
---	---	---	---	--

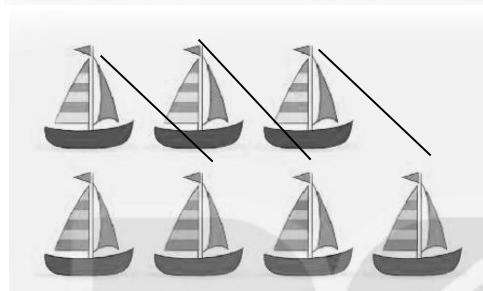
**Câu 10. Xem tranh rồi viết phép tính thích hợp: ( 1 điểm) (M3)**

a)



	○		=	
--	---	--	---	--

b)



	○		=	
--	---	--	---	--

## ĐÁP ÁN ĐỀ 6

### I. PHẦN TRẮC NGHIỆM: (6 điểm)

Câu 1: Số ? ( 1 điểm ) (M1)



Câu 2: Viết số còn thiếu vào ô trống : ( 1 điểm ) (M1)

4	5	6	7	8	9
---	---	---	---	---	---

Câu 3: Khoanh vào chữ cái đặt trước kết quả đúng: ( 1,5 điểm ) (M1)

a.  $2 + 6 =$

A. 6

B. 4

C. 8

b.  $4 \dots 8$

A. >

B. <

C. =

Câu 4: Đúng ghi Đ, sai ghi S vào ô trống. ( 1 điểm ) (M2)

$4 + 2 + 3 = 9$

$3 + 6 - 3 = 9$   S

$9 - 2 - 3 = 2$   S

$8 - 5 + 0 = 3$

Câu 5: Hình dưới là khối? ?( 1 điểm ) (M2)



A. Khối hộp chữ nhật

B. Khối lập phương

Câu 6: Khoanh vào chữ cái đặt trước kết quả đúng: (0.5 điểm) (M2)

$4 + 5 - 2 = ?$

A. 7

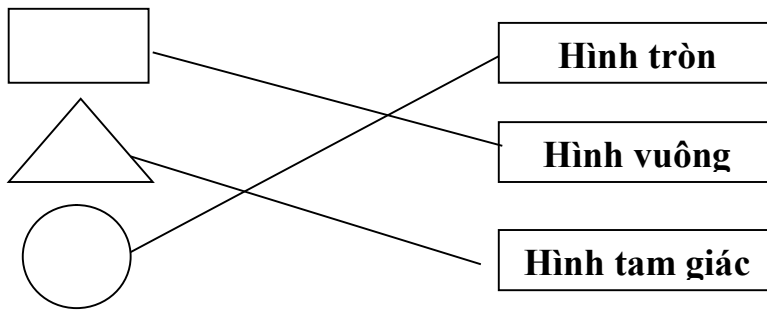
B. 5

C. 6

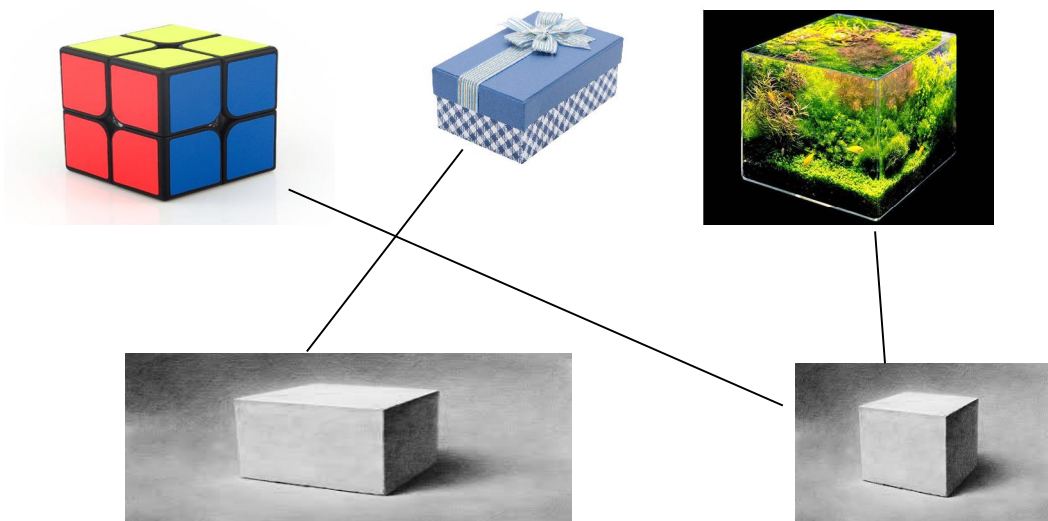
II/ PHẦN TƯ LUẬN: (4 điểm)



Câu 7: Nối với hình thích hợp ( 1 điểm ) (M1)



Câu 8. Nối tên các đồ vật sau phù hợp với khối hộp chữ nhật, khối lập phương. ( 1 điểm ) ( M3)



Câu 9. Số ( 1 điểm ) ( M1)



3	+	1	=	4
---	---	---	---	---



5	-	2	=	3
---	---	---	---	---

---

---

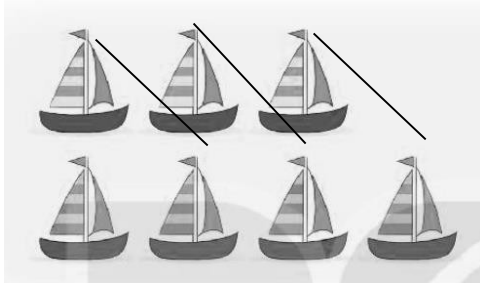
Câu 10. Xem tranh rồi viết phép tính thích hợp: ( 1 điểm) (M3)

a)



$$\boxed{5} \quad \boxed{+} \quad \boxed{0} \quad \boxed{=} \quad \boxed{5}$$

b)



$$\boxed{7} \quad \boxed{-} \quad \boxed{3} \quad \boxed{=} \quad \boxed{4}$$